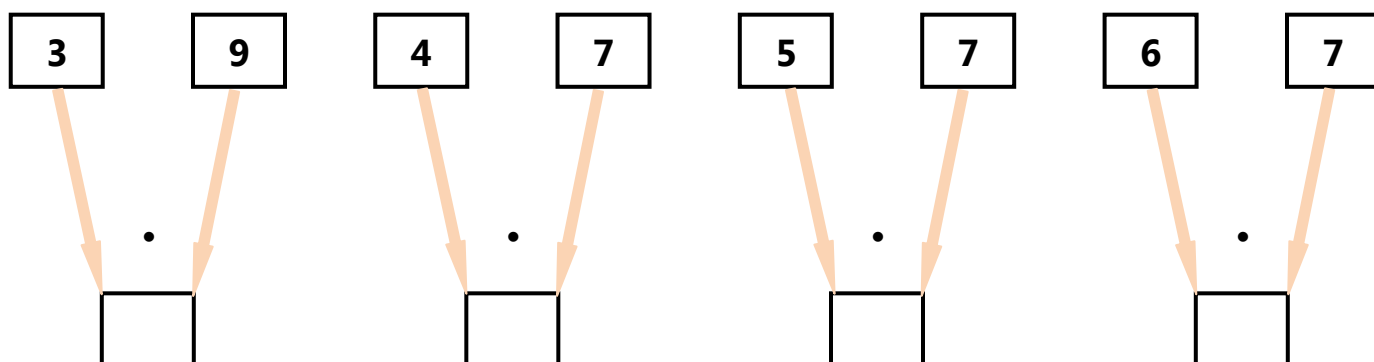


Projekt współfinansowany przez Unię Europejską w ramach Europejskiego Funduszu Społecznego.

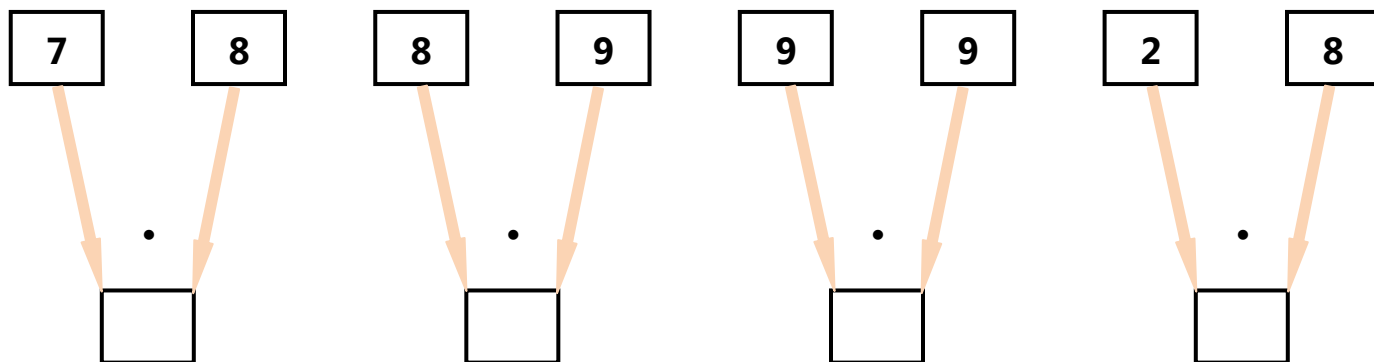
## Karta pracy – Mnożę do 100

### Zadanie 1

Oblicz działania na drzewkach. Zapisz działania pod drzewkami i porównaj wyniki wstawiając w okienka odpowiedni znak  $>$ ,  $<$   $=$ :



..... <div style="border: 1px solid black; width: 50px; height: 30px; display: inline-block;"></div> .....	..... <div style="border: 1px solid black; width: 50px; height: 30px; display: inline-block;"></div> .....
--	--



..... <div style="border: 1px solid black; width: 50px; height: 30px; display: inline-block;"></div> .....	..... <div style="border: 1px solid black; width: 50px; height: 30px; display: inline-block;"></div> .....
--	--



Projekt współfinansowany przez Unię Europejską w ramach Europejskiego Funduszu Społecznego.

## Zadanie 2

Oblicz i porównaj wyniki wstawiając znaki  $<$ ,  $>$ ,  $=$ .

$3 \cdot 7 \quad \square \quad 4 \cdot 6$

$5 \cdot 6 \quad \square \quad 9 \cdot 3$

$7 \cdot 5 \quad \square \quad 6 \cdot 7$

$8 \cdot 3 \quad \square \quad 6 \cdot 4$

$6 \cdot 9 \quad \square \quad 5 \cdot 8$

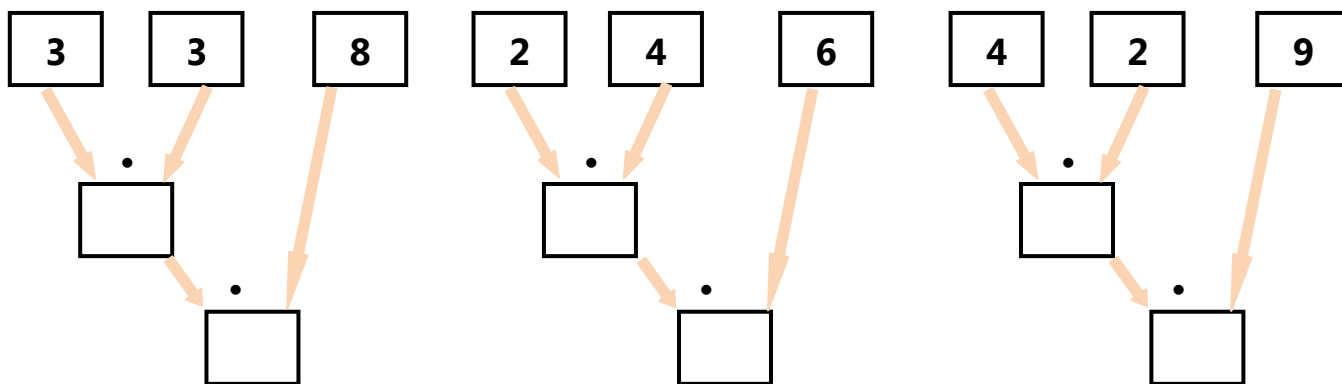
$3 \cdot 9 \quad \square \quad 4 \cdot 7$

$6 \cdot 8 \quad \square \quad 8 \cdot 9$

$7 \cdot 5 \quad \square \quad 6 \cdot 6$

## Zadanie 3

Oblicz działania na drzewkach. Porównaj wyniki i wpisz je do okienek tak, aby spełniały podany pod drzewkami zapis:



$\square > \square > \square$